

ЗАДАНИЕ К УРОКУ №2 «Размещение и плотность населения мира».

1. 10 класс
2. География
3. Тема по планированию: «Размещение и плотность населения мира».
4. Ведущий: Бугерра К.А, Элькин Г.Н.

Задание 1.




Рассчитать плотность населения для следующих стран:

Монголия, Западная Сахара, Австралия, Намибия, Исландия, Канада,
результаты записать в таблицу.

№п /п	Страна	Численность населения	Площадь территории	Плотность населения
1.	Монголия	3 353 470 чел	1 564 116 км ²	
2.	Западная Сахара	582 000 чел	266 км ²	
3.	Австралия	25 671 900 чел	7 692 024 км ²	
4.	Намибия	2 746 745 чел	825 418 км ²	
5.	Исландия	364 134 чел	103 125 км ²	
6.	Канада	38 005 238 чел.	9 984 670 км ²	

Задание 2.

Установите соответствие флагов стран, воспользовавшись перечнем стран из предыдущей таблицы:

Флаги стран	Название страны
	
	
	



Задание 3.

На карте для указанных регионов Земного шара определите плотность населения (н - низкая, в - высокая).



Номера регионов	Плотность населения (н, в)
1.	
2.	
3.	
4.	
5.	
6.	
7.	

Задание 4 .

Мировые агломерации. Восстановите последовательность агломераций по убыванию численности населения, ответы запишите в таблицу(номера).

- 1.Шанхай
- 2.Москва
- 3.Токио
4. Нью-Йорк
- 5.Сан-Паулу
- 6.Лондон

--	--	--	--	--	--

Задание 5.

Из предложенного списка стран выберите те, которые на ваш взгляд, наиболее привлекательны для жизни и ведения хозяйства. Свой ответ обоснуйте.

- Мальта
- Боливия
- Каймановы острова
- Сенегал
- Япония
- Ирак
- Кувейт
- США
- Италия
- Индонезия