


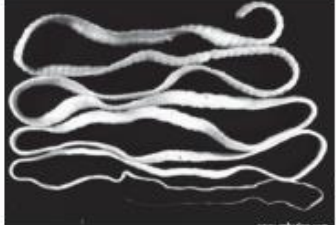



ИТОГОВАЯ РАБОТА

Итоговое задание по теме нужно выполнить и отправить на проверку своему учителю с помощью электронного дневника или электронной почты.

1. Класс 7
2. Предмет биология
3. Темы по планированию:
Тип Кольчатые черви. Классы Многощетинковые, Малощетинковые, Пиявки.
Тип моллюски. Классы Брюхоногие, Двустворчатые, Головоногие
4. Ведущий Назарова Елена Владимировна

Задание 1	<p>Выберите три верных ответа из шести и запишите цифры, под которыми они указаны. К признакам кольчатых червей относят</p> <ol style="list-style-type: none">1) окологлоточное нервное кольцо и отходящие от него нервные стволы с ответвлениями2) щетинки на члениках тела3) окологлоточное нервное кольцо и брюшная нервная цепочка4) слабое развитие или отсутствие органов чувств5) наличие замкнутой кровеносной системы6) питание тканями органов тела человека			
	<p>Место для ответа</p> <table border="1" data-bbox="432 1003 722 1059"><tr><td style="width: 30px; height: 30px;"></td><td style="width: 30px; height: 30px;"></td><td style="width: 30px; height: 30px;"></td></tr></table>			
Задание 2	<p>Выберите один верный ответ из четырех</p> <p>Кольчатые черви произошли от древних</p> <ol style="list-style-type: none">1) паразитических плоских червей2) свободноживущих круглых червей3) свободноживущих плоских червей4) кишечнополостных			
	<p>Место для ответа</p> <table border="1" data-bbox="424 1429 523 1491"><tr><td style="width: 30px; height: 30px;"></td></tr></table>			
Задание 3	<p>Выберите один верный ответ из четырех</p> <p>К какому классу беспозвоночных животных относится дождевой червь?</p> <ol style="list-style-type: none">1) Ленточные2) Ресничные3) Малощетинковые4) Многощетинковые			
	<p>Место для ответа</p> <table border="1" data-bbox="424 1886 523 1948"><tr><td style="width: 30px; height: 30px;"></td></tr></table>			
Задание 4	<p>Выберите один верный ответ из четырех</p> <p>Вследствие деятельности дождевых червей происходит</p>			

	<p>1) обогащение перегноем почвы 2) подавление развития почвенных растений 3) повреждение корней растений 4) распространение возбудителей заболеваний растений</p>			
	<p>Место для ответа</p> <input data-bbox="424 394 536 461" type="text"/>			
<p>Задание 5</p>	<p>Выберите один верный ответ из четырех На каком рисунке изображён дождевой червь?</p> <p>1) </p> <p>2) </p> <p>3) </p> <p>4) </p>			
	<p>Место для ответа</p> <input data-bbox="424 1104 536 1171" type="text"/>			
<p>Задание 6</p>	<p>Выберите три верных ответа из шести и запишите цифры, под которыми они указаны Какие из приведенных животных имеют мантию и мантийную полость?</p> <p>1) Скорпион 2) Каракатица 3) Беззубка 4) Дождевой червь 5) Виноградная улитка 6) Планария</p>			
	<p>Место для ответа</p> <table border="1" data-bbox="432 1664 722 1731"> <tr> <td style="width: 30px; height: 30px;"></td> <td style="width: 30px; height: 30px;"></td> <td style="width: 30px; height: 30px;"></td> </tr> </table>			
<p>Задание 7</p>	<p>Прочитайте текст «Виноградная улитка» Виноградная улитка относится к классу брюхоногих моллюсков, дышит атмосферным воздухом, а её тело и раковина отличаются асимметричным строением. Выберите из приведённого ниже текста три утверждения, по смыслу относящиеся к описанию перечисленных выше признаков, и запишите в таблицу цифры, под которыми они указаны. (1) Виноградная улитка — один из наиболее крупных моллюсков Европы. (2) Тело улитки несегментированное, выпуклое на спинной</p>			

	<p>стороне, закручено спирально и прикрыто раковиной. (3) Раковина улитки состоит из известковых пластиночек. (4) Углекислая известь извлекается моллюском из воды и пищи. (5) Виноградная улитка перемещается по субстрату с помощью ноги с плоской подошвой. (6) Живёт улитка на суше, питается в основном, растительной пищей.</p>													
	<p>Место для ответа</p> <table border="1" data-bbox="432 405 683 465"> <tr> <td style="width: 30px; height: 20px;"></td> <td style="width: 30px; height: 20px;"></td> <td style="width: 30px; height: 20px;"></td> </tr> </table>													
<p>Задание 8</p>	<p>Выберите один верный ответ из четырех Моллюсками называют животных, имеющих</p> <ol style="list-style-type: none"> 1) плотный хитиновый покров 2) покров из слизи, выделяемой кожей и затвердевающей в воде или на воздухе 3) мягкое членистое тело 4) мягкое тело, не разделённое на членики <p>Место для ответа</p> <table border="1" data-bbox="424 864 515 925"> <tr> <td style="width: 30px; height: 20px;"></td> </tr> </table>													
<p>Задание 9</p>	<p>Выберите один верный ответ из четырех Животное, имеющее мягкое на ощупь нечленистое тело, раковину и мантию, относят к типу</p> <ol style="list-style-type: none"> 1) Кольчатые черви 2) Хордовые 3) Членистоногие 4) Моллюски <p>Место для ответа</p> <table border="1" data-bbox="424 1319 523 1379"> <tr> <td style="width: 30px; height: 20px;"></td> </tr> </table>													
<p>Задание 10</p>	<p>Выберите один верный ответ из четырех Представитель какого типа царства Животные изображён на рисунке?</p> <div style="text-align: right;">  </div> <table border="1" data-bbox="432 1610 1465 1827"> <tr> <td style="width: 30px; text-align: center;">1)</td> <td style="width: 30px;"></td> <td>Моллюски</td> </tr> <tr> <td style="text-align: center;">2)</td> <td></td> <td>Кишечнополостные</td> </tr> <tr> <td style="text-align: center;">3)</td> <td></td> <td>Членистоногие</td> </tr> <tr> <td style="text-align: center;">4)</td> <td></td> <td>Кольчатые черви</td> </tr> </table> <p>Место для ответа</p> <table border="1" data-bbox="424 1888 523 1948"> <tr> <td style="width: 30px; height: 20px;"></td> </tr> </table>	1)		Моллюски	2)		Кишечнополостные	3)		Членистоногие	4)		Кольчатые черви	
1)		Моллюски												
2)		Кишечнополостные												
3)		Членистоногие												
4)		Кольчатые черви												