

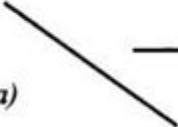

Итоговая работа по теме «Перпендикулярные прямые»

1. Продолжите предложения.

а) Прямые, при пересечении образующие углы 90° , называют _____

б) Если каждая из двух прямых перпендикулярна третьей прямой, _____

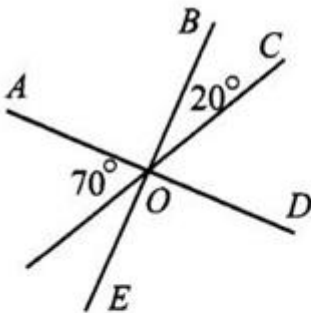
2. С помощью угольника проведите прямые, перпендикулярные прямой, изображённым на рисунке.

а)  б) 

3. На рисунке пересекаются три прямые.

а) Запишите, какие прямые на рисунке перпендикулярны _____

б) Запишите градусную меру углов.
 $\angle COD =$ _____,
 $\angle BOD =$ _____,
 $\angle EOC =$ _____.



4. Пересекаются ли прямые a и b ? Объясните почему.

